



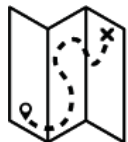
ALGUNAS DE LAS CIUDADES MÁS GRANDES DEL MUNDO ACTUAL Y SUS POBLACIONES EN EL SIGLO XIII

A través de una comparación entre el siglo XIII y la actualidad, la actividad da a conocer que el destino de las ciudades depende de la red comercial y cultural a la que están vinculadas, las redes cambian en la historia y las redes más importantes no siempre han estado en las manos del mundo "Noroccidental". Al mismo tiempo, la actividad ayuda a ubicar las dinámicas locales en escalas geográficas mayores (aumentando la capacidad de transcalaridad), a captar la discontinuidad histórica y a desarrollar la capacidad de descentralización, es decir, reconociendo también la importancia de sujetos que son diferentes de los más cercanos a nuestra cultura.

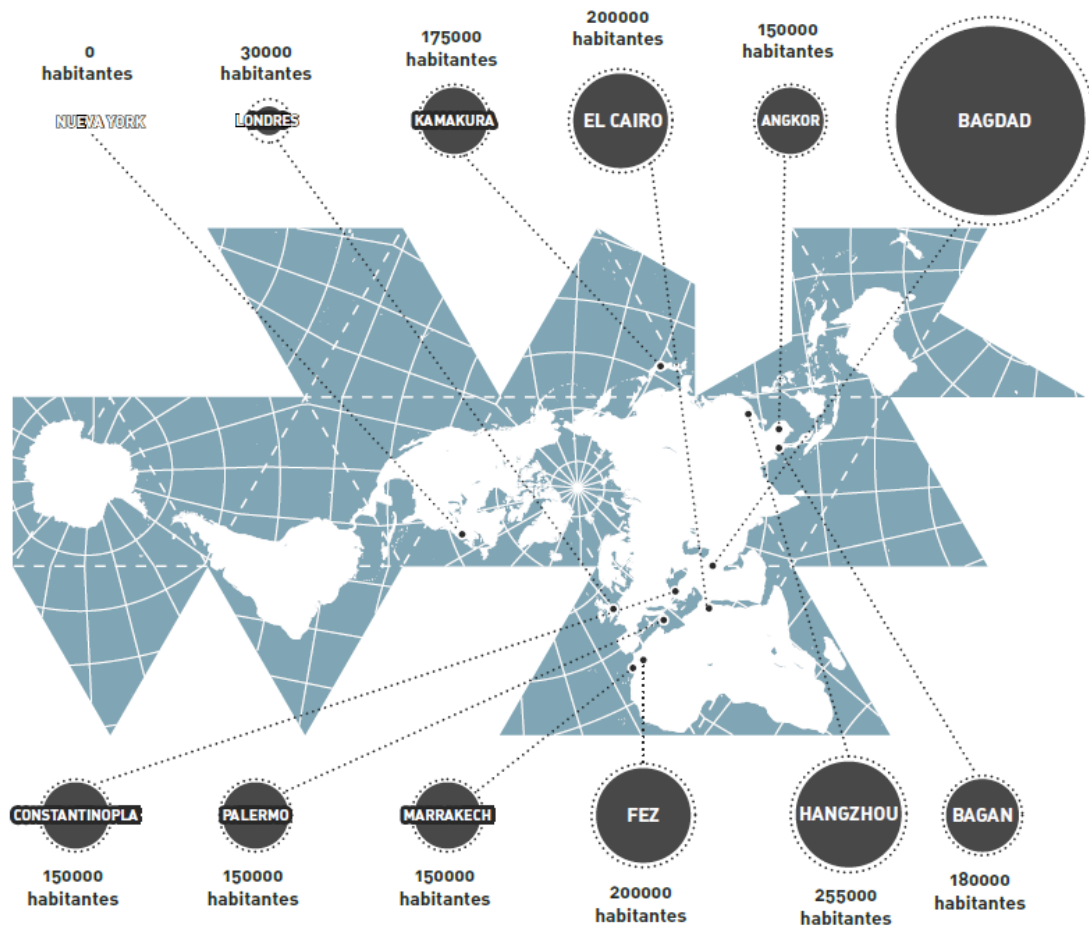


DIFICULTAD 2,5/4





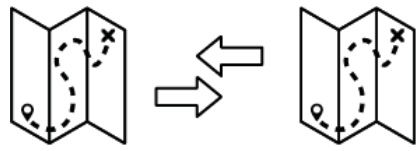
OBSERVA EL MAPA E INTENTA RESPONDER LAS SIGUIENTES PREGUNTAS:



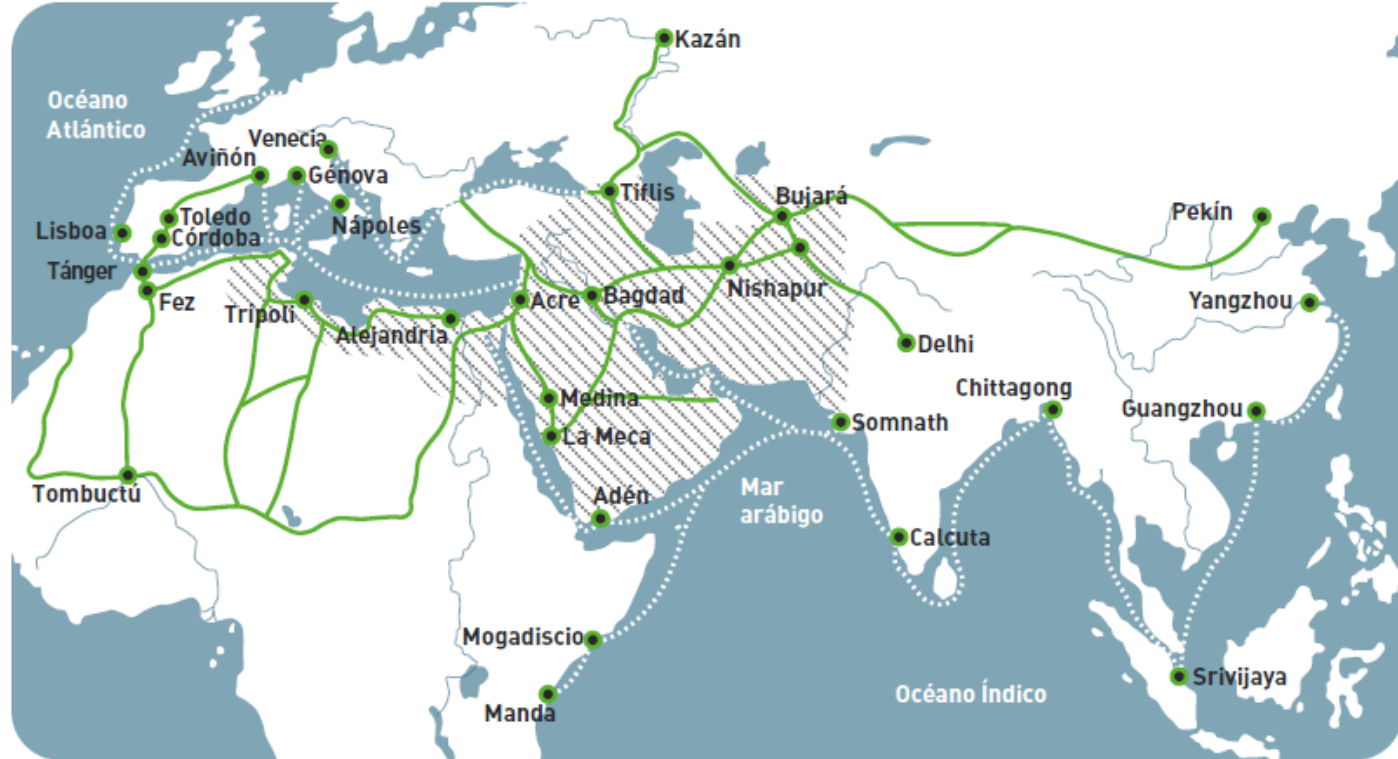
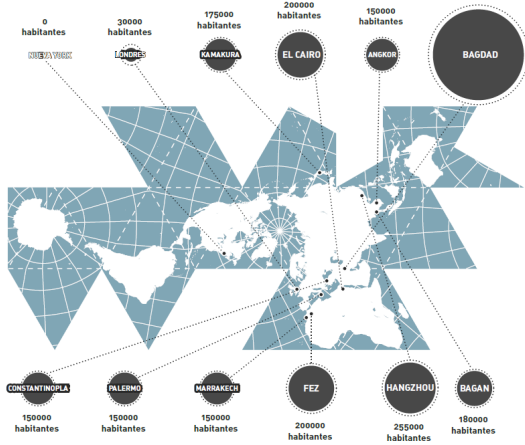
¿CUÁLES SON LAS ZONAS DEL PLANETA DONDE SE UBICARON LAS CIUDADES MÁS GRANDES DE TAL PERÍODO?







SEGÚN TÚ, ¿POR QUÉ LAS CIUDADES OCCIDENTALES ERAN TAN PEQUEÑAS?



OBSERVA EL MAPA DEL COMERCIO EURO-AFRO-ASIÁTICO. ¿POR QUÉ FUE BAGDAD TAN GRANDE?



-  Dinastía Abbasí (islam)
-  Rutas terrestres
-  Rutas marítimas
-  Ciudades principales

Este mapa muestra la función fundamental de la civilización islámica en la conexión entre Europa, el norte de África, el África subsahariana y varias zonas de Asia, a través de intercambios que tenían lugar tanto por tierra como por mar.