



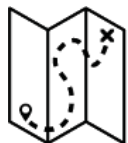
## ALGUNAS DE LAS CIUDADES MÁS GRANDES DEL MUNDO ACTUAL Y SUS POBLACIONES EN EL SIGLO XIX

A través de una comparación entre el siglo XIII, el siglo XIX y la actualidad, la actividad da a conocer que el destino de las ciudades depende de la red comercial y cultural a la que están vinculadas, las redes cambian en la historia y las redes más importantes no siempre estado en manos del mundo "Noroccidental". Al mismo tiempo, la actividad ayuda a ubicar las dinámicas locales en escalas geográficas mayores (aumentando la capacidad de transcalaridad), a captar la discontinuidad histórica y a desarrollar la capacidad de descentralización, es decir, reconociendo también la importancia de sujetos que son diferentes a los más cercanos a nuestra cultura.

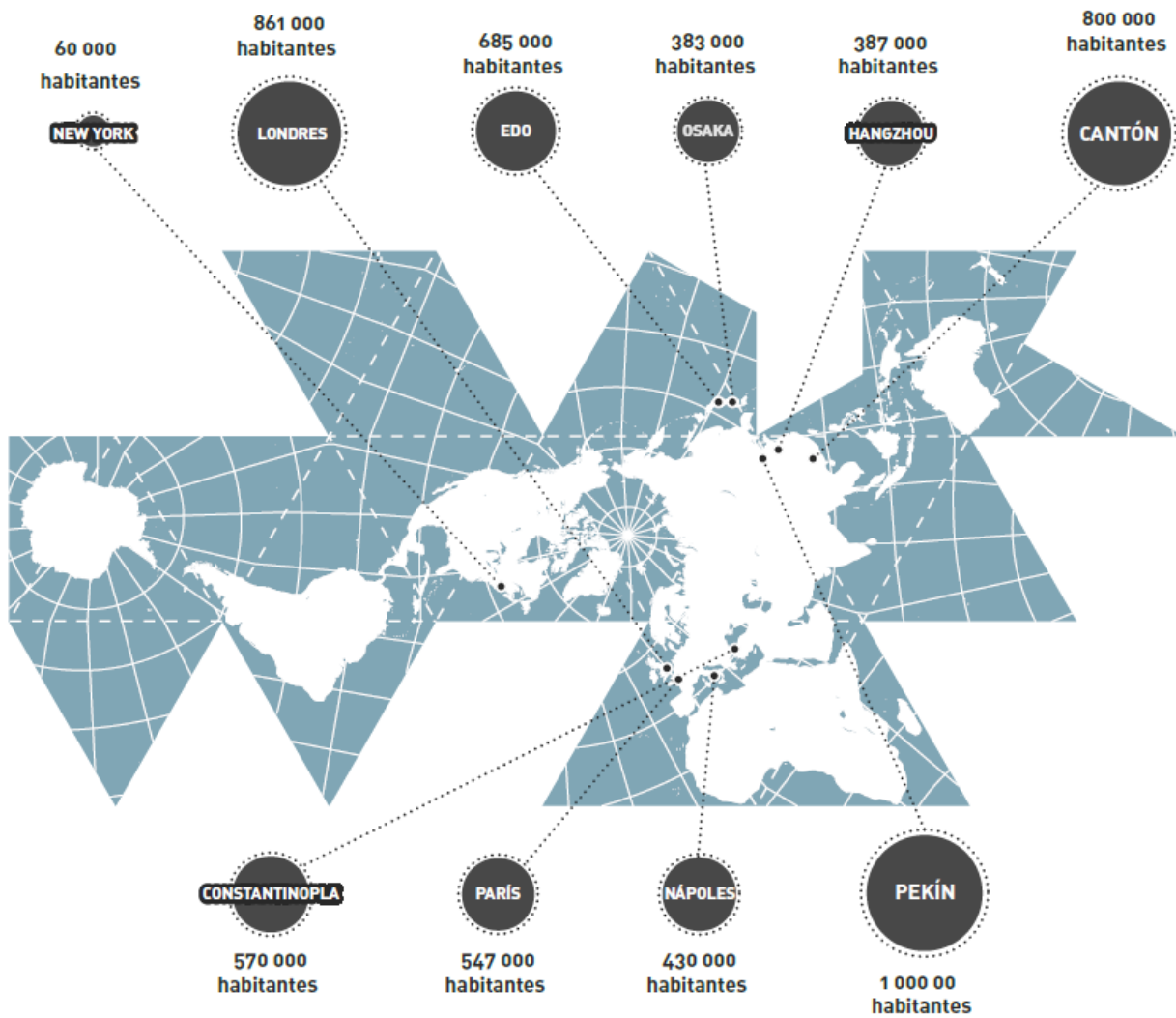


DIFICULTAD 3/4





OBSERVA EL MAPA E INTENTA RESPONDER LAS SIGUIENTES PREGUNTAS:



¿EN QUÉ CONTINENTES SE CONCENTRABAN LAS CIUDADES MÁS GRANDES A PRINCIPIOS DEL SIGLO XIX?

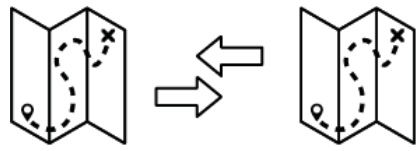
---

---

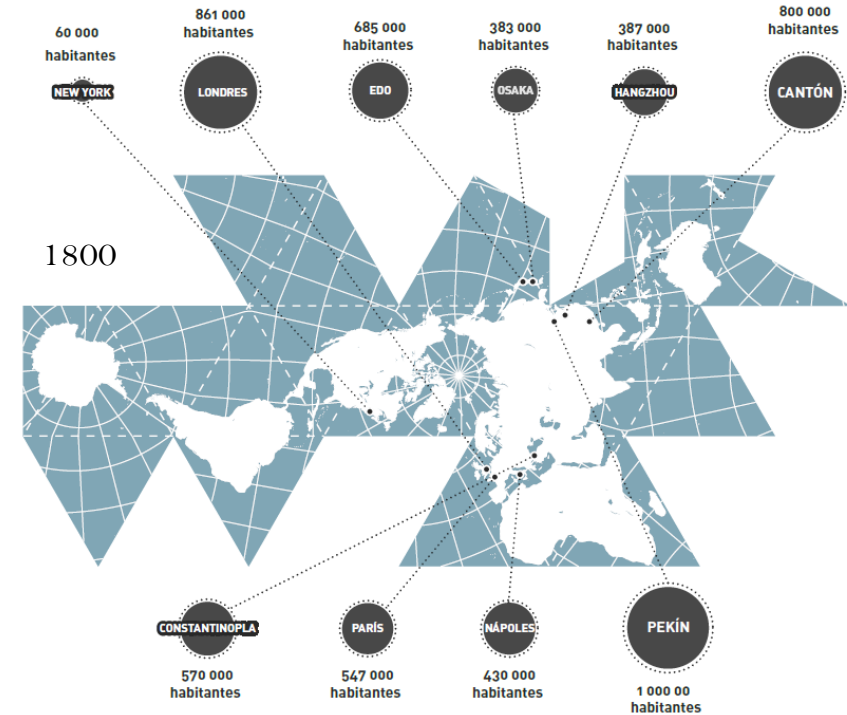
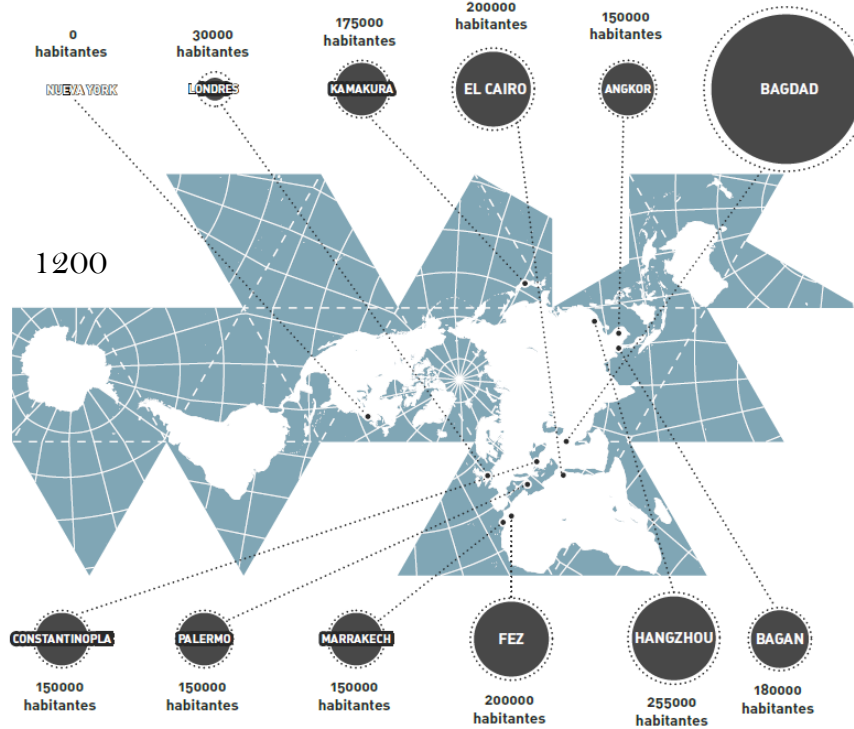
¿QUÉ CIUDADES DE LAS MENCIONADAS EN LA RESPUESTA ANTERIOR SE ENCUENTRAN EN LA ACTUALIDAD ENTRE LAS MÁS GRANDES DE SU CONTINENTE?

---

---



COMPARA EL SIGUIENTE MAPA CON EL DE LAS CIUDADES MÁS GRANDES DEL SIGLO XIII E INTENTA RESPONDER LAS SIGUIENTES PREGUNTAS:



¿QUÉ CIUDADES DEL PRIMER MAPA ESTÁN AÚN PRESENTES EN EL SEGUNDO?



¿POR QUÉ HAN AUMENTADO DE TAMAÑO ALGUNAS DE ESTAS CIUDADES? (PRIMERO, INTENTA HACER ALGUNAS HIPÓTESIS PROPIAS, LUEGO INTENTA BUSCAR MÁS INFORMACIÓN EN INTERNET).



¿QUÉ CIUDAD MUY GRANDE DEL SIGLO XIII DESAPARECIÓ? ¿QUE PASÓ? (PRIMERO, INTENTA HACER ALGUNAS HIPÓTESIS PROPIAS, LUEGO INTENTA BUSCAR MÁS INFORMACIÓN EN INTERNET).