

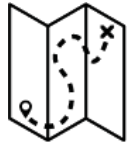


LA COLONIZACIÓN DE ÁFRICA

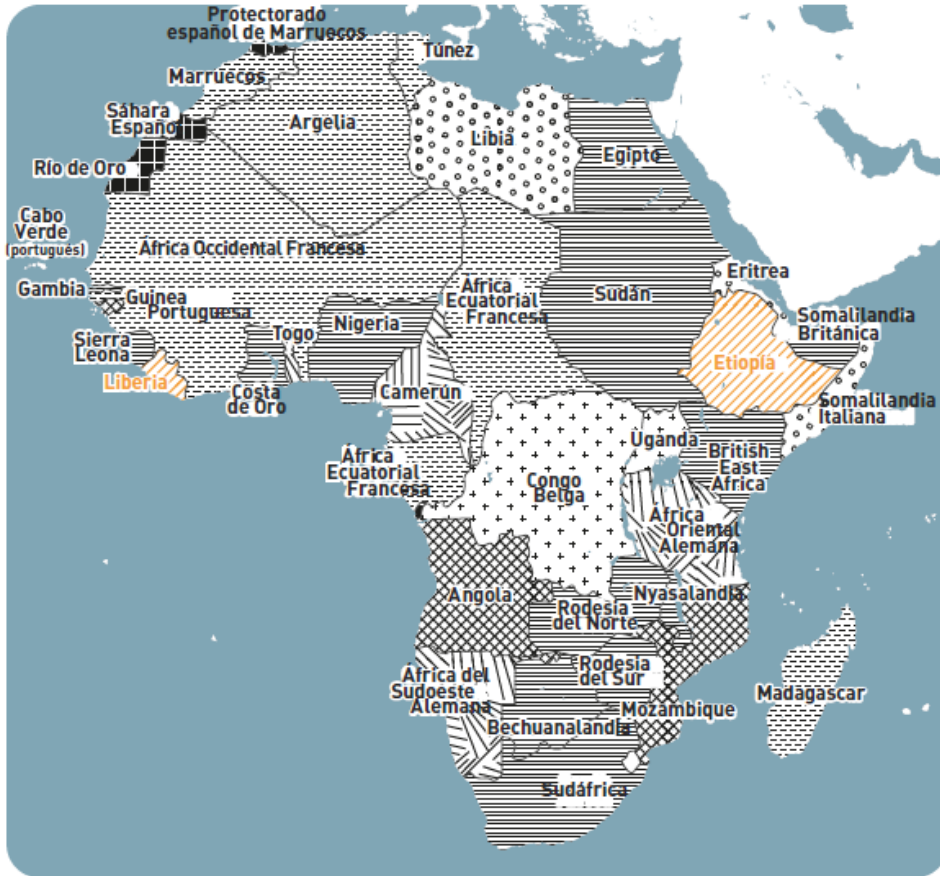
Mostrando la velocidad y la proporción de las conquistas europeas en África, la actividad da a conocer la gran extensión de las tierras involucradas en el expansionismo colonial y los gravísimos efectos que ha tenido el colonialismo en el desarrollo de las desigualdades.

DIFICULTAD 2,5/4





OBSERVA CUIDADOSAMENTE EL MAPA DE LA PRESENCIA EUROPEA EN ÁFRICA EN VÍSPERAS DE LA PRIMERA GUERRA MUNDIAL.

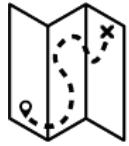


1914

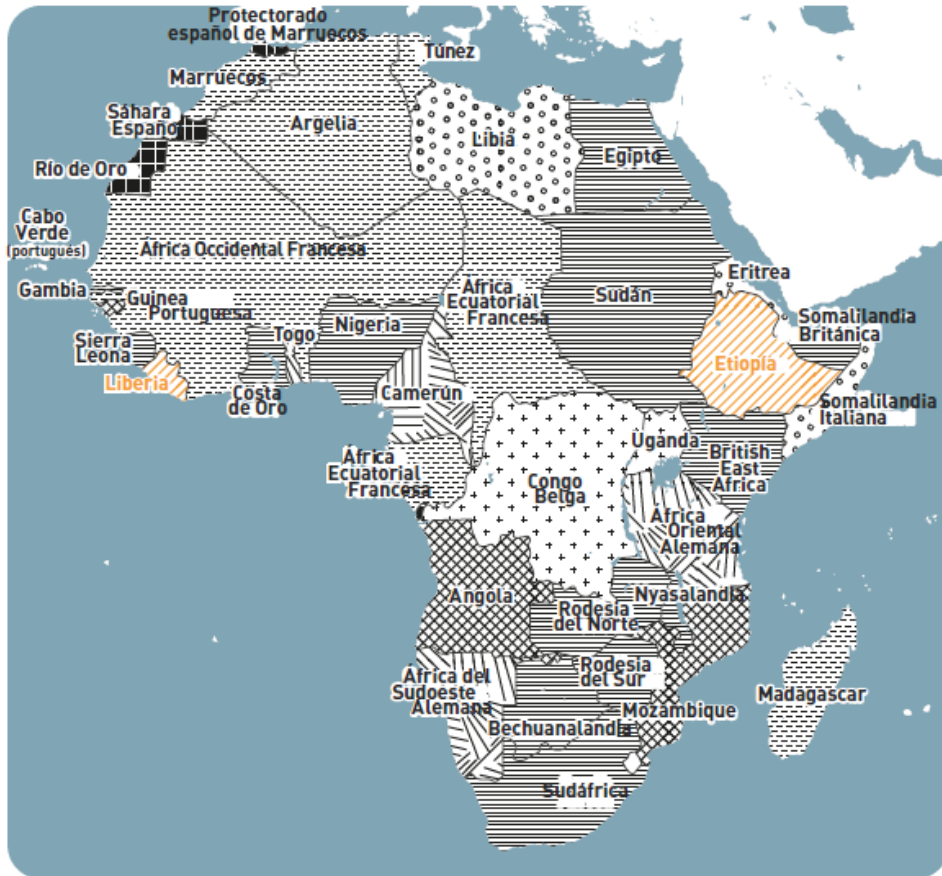
- Territorios franceses
- Territorios otomanos
- Territorios británicos
- Territorios portugueses
- Territorios otomanos
- Territorios independientes
- Territorios alemanes
- Territorios belgas
- Territorios italianos
- Territorios españoles



¿QUÉ ESTABAN BUSCANDO LOS PUEBLOS EUROPEOS EN ÁFRICA? ELABORA TU HIPÓTESIS.



OBSERVA CUIDADOSAMENTE EL MAPA DE LA PRESENCIA EUROPEA EN ÁFRICA EN VÍSPERAS DE LA PRIMERA GUERRA MUNDIAL.



1914

- Territorios franceses
- Territorios otomanos
- Territorios británicos
- Territorios portugueses
- Territorios otomanos
- Territorios independientes
- Territorios alemanes
- Territorios belgas
- Territorios italianos
- Territorios españoles



BUSCA INFORMACIÓN EN INTERNET SOBRE LA HISTORIA DE ETIOPÍA O LIBERIA (LOS ÚNICOS DOS PAÍSES INDEPENDIENTES EN 1914) PARA CONOCER LAS RAZONES QUE EXPLICAN SU CONDICIÓN AUTÓNOMA EN UN CONTINENTE CASI COMPLETAMENTE COLONIZADO POR NACIONES EUROPEAS.