

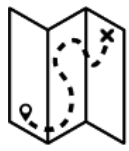


LA EXPANSIÓN MONGOLA

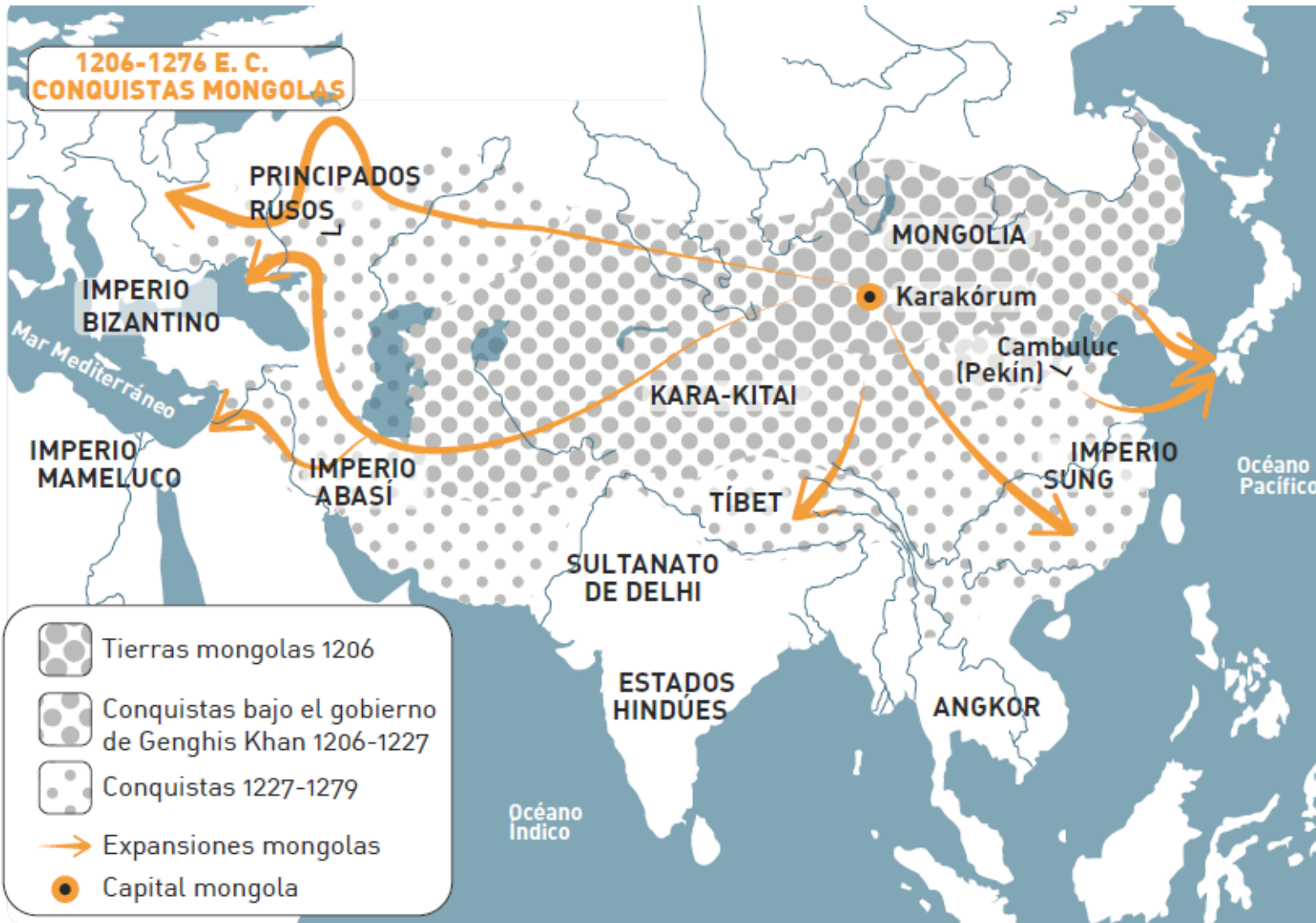
La actividad ayuda a considerar la presencia de imperios y grandes figuras no pertenecientes al mundo “Noroccidental” en la historia y a desarrollar la capacidad de descentralización (es decir, en este caso, la capacidad de comprender la importancia histórica de diferentes sujetos en lugar de los más cercanos a nuestra cultura de referencia).

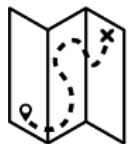
DIFICULTAD 2/4



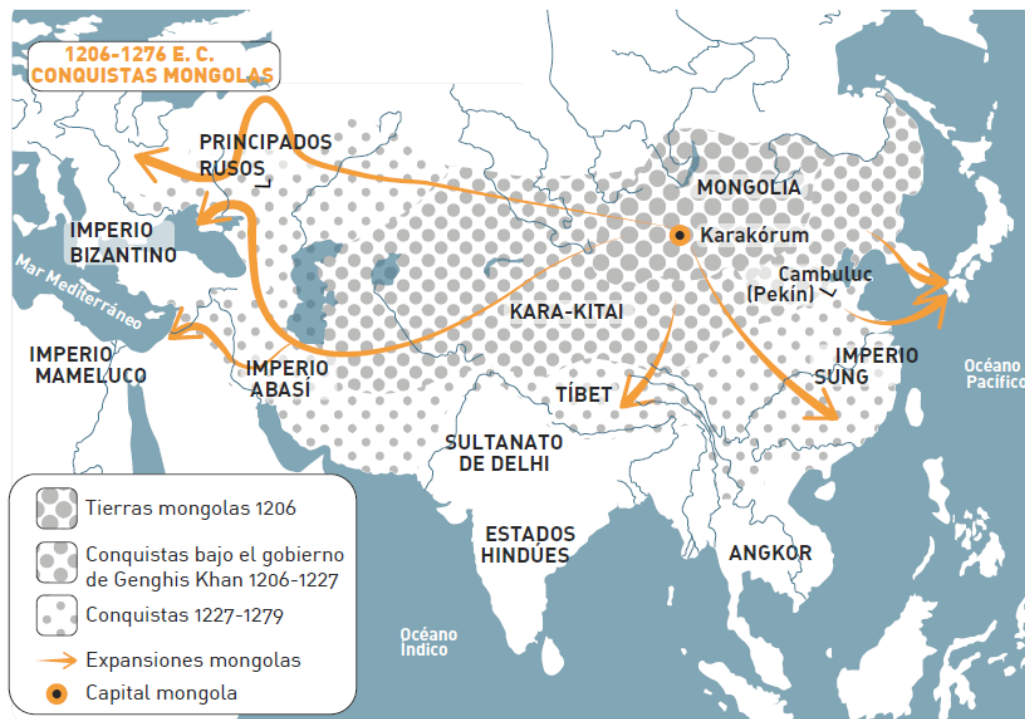


ESTE MAPA MUESTRA LA EXPANSIÓN DEL IMPERIO MONGOL DURANTE EL SIGLO XIII (LA AYUDA DE LAS POBLACIONES TURCAS FUE CRUCIAL PARA LA EXPANSIÓN).

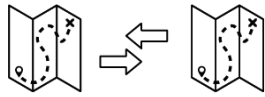




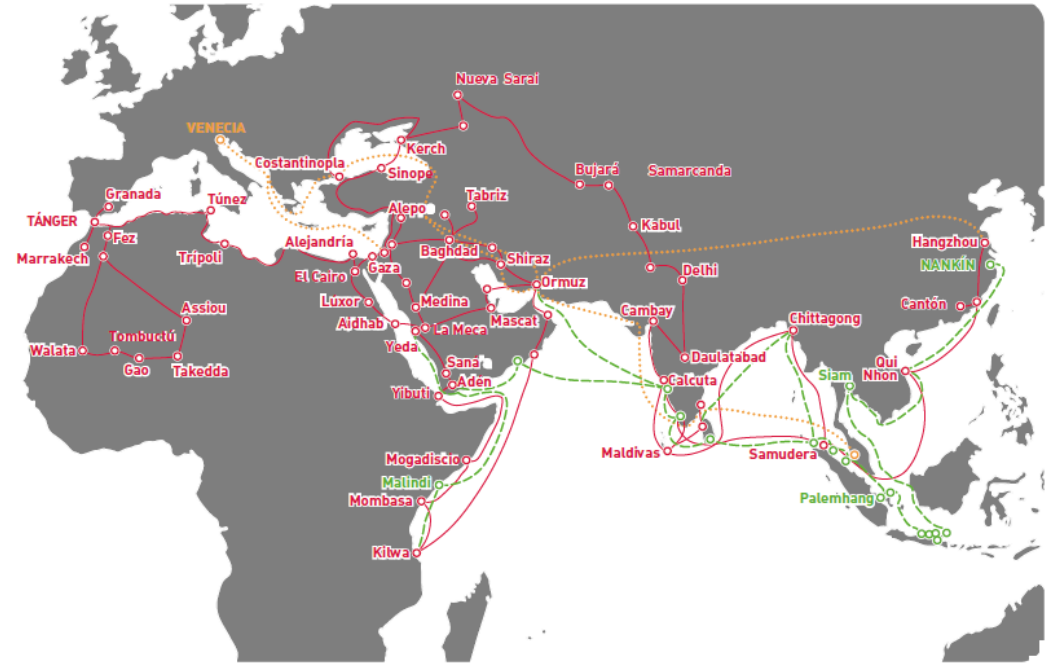
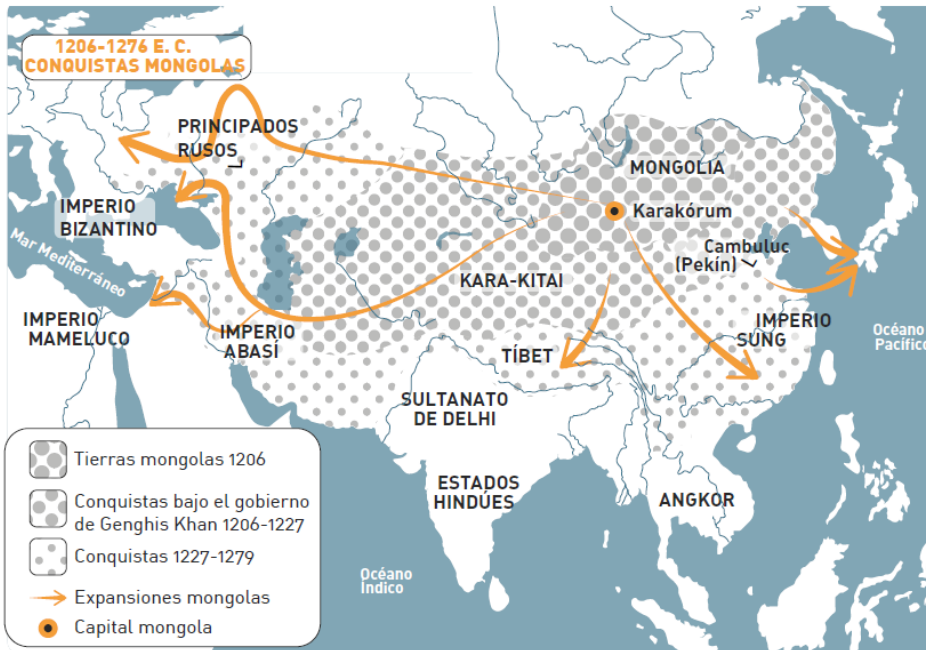
OBSERVA CUIDADOSAMENTE EL GRAN TAMAÑO DEL IMPERIO MONGOL EN EL MAPA. LUEGO INTENTA RESPONDER LA SIGUIENTE PREGUNTA:



ANTES DEL IMPERIO MONGOL, ¿HABÍA OTROS IMPERIOS CON EL MISMO TAMAÑO QUE EL MONGOL EN LA HISTORIA?



COMPARAR EL MAPA DE LOS VIAJES DE IBN BATUTA, MARCO POLO Y ZHENG HE E INTENTA AVERIGUAR EN INTERNET QUÉ OBSERVACIONES TENÍA MARCO POLO DESPUÉS DE SU VIAJE A CHINA.



Rutas de Ibn Battuta 1325-1353

Rutas de Zheng He 1405-1433

Rutas de Marco Polo 1271-1295



SEGÚN TÚ, ¿LA PRESENCIA DEL IMPERIO MONGOL INCENTIVÓ EL VIAJE DE MARCO POLO DE EUROPA A CHINA? INTENTA ELABORAR TU RESPUESTA.



INTENTA BUSCAR MÁS INFORMACIÓN EN INTERNET PARA COMPARAR EL NÚMERO DE SITIOS WEB QUE MENCIONAN EL NOMBRE DE MARCO POLO CON EL NÚMERO DE SITIOS WEB QUE MENCIONAN LOS NOMBRES DE LOS OTROS DOS VIAJEROS. INTENTA EXPLICAR LAS RAZONES DE LA DIFERENCIA EN LOS NÚMEROS.