



## CULTURA Y ESPACIO URBANO: EL MAPA DEL PUNTO RACIAL

Mediante el estudio de un gran país del sur del mundo (Brasil), la actividad tiene como objetivo sensibilizar sobre las diversidades bioculturales, desarrollar la capacidad de analizar un mismo tema en diferentes escalas geográficas (transcalaridad) y focalizar la atención a derechos como el respeto, la equidad social, la justicia y las dinámicas que propician sus violaciones.

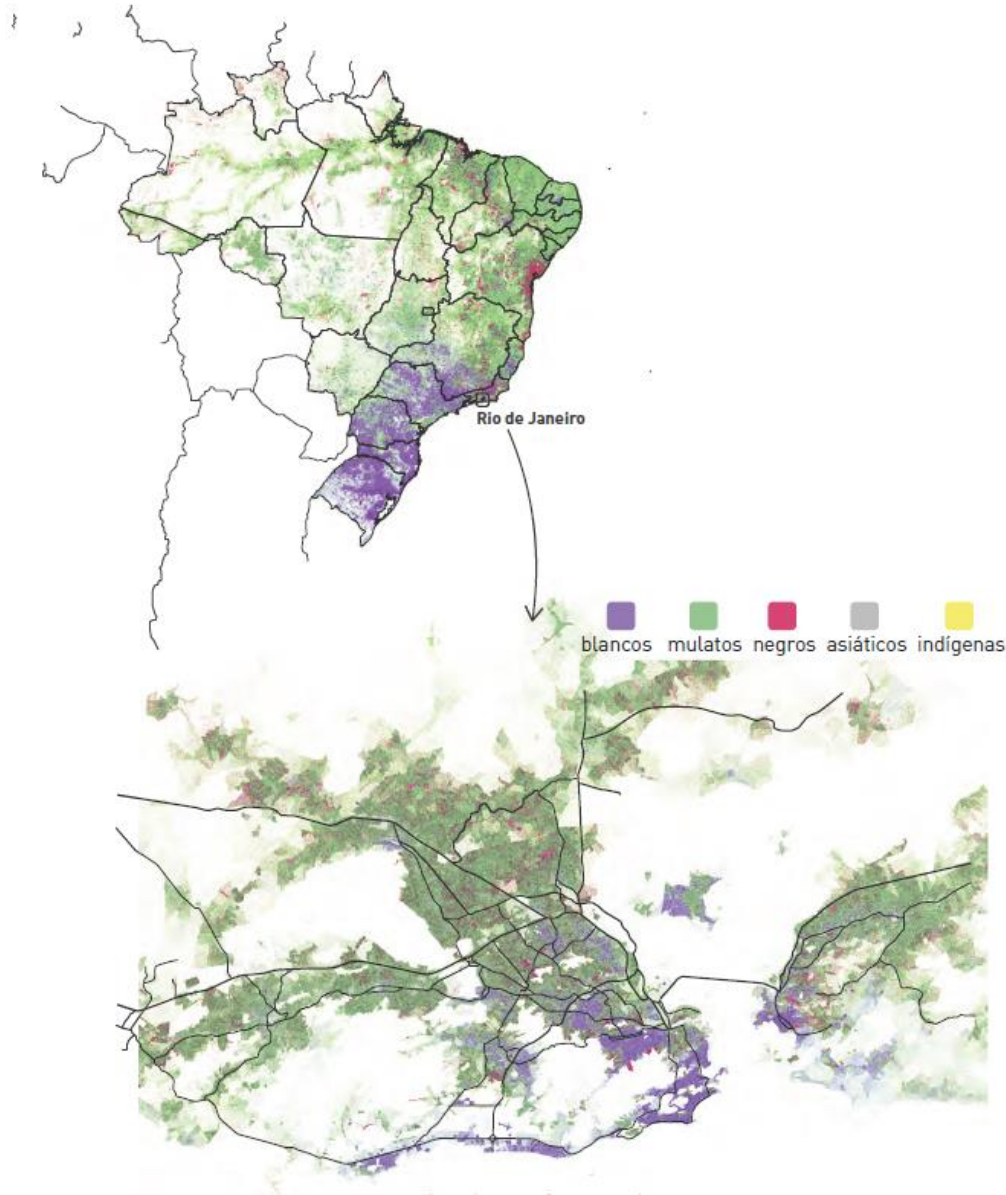
**DIFICULTAD 2,5/4**





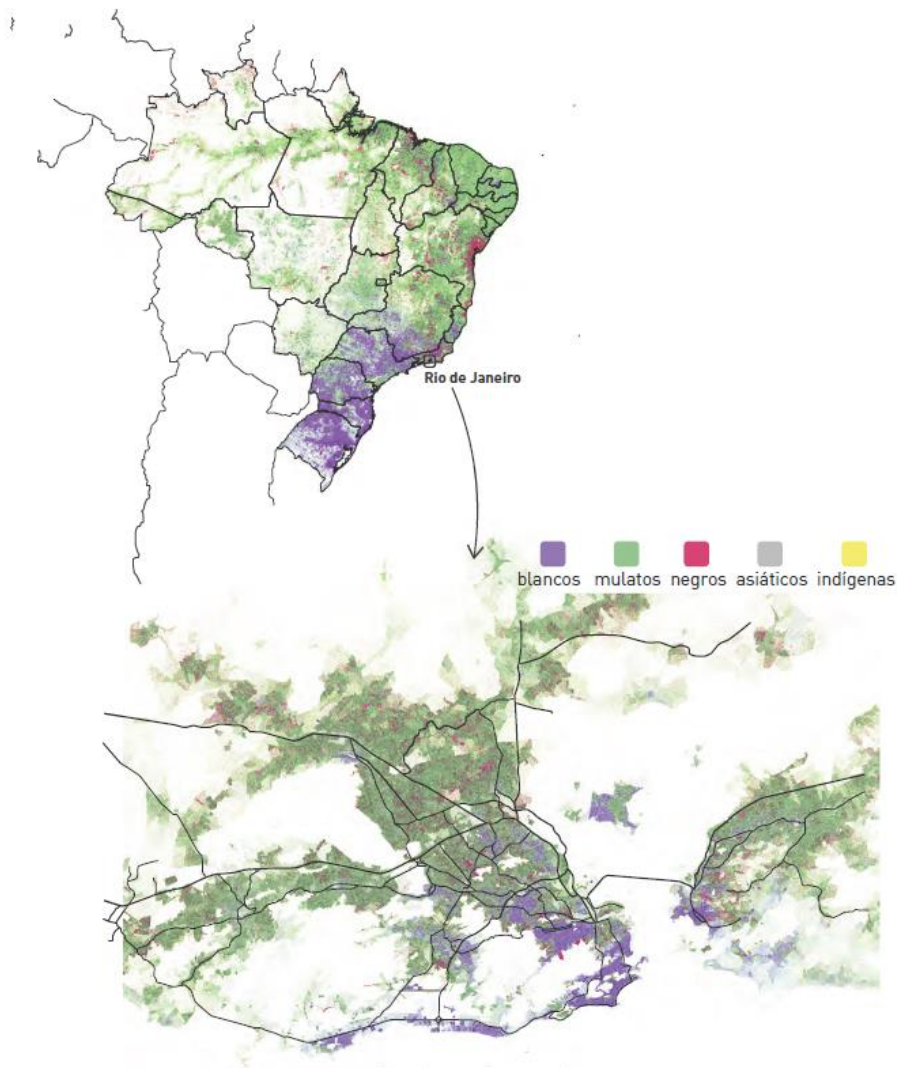
Esta representación se desarrolló gracias al código del mapa de puntos raciales, creado por Dustin Cable, exinvestigador demográfico de la Universidad de Virginia, en 2013, inspirado en Eric Fisher, cartógrafo y programador. El mapa muestra una representación de la distribución geográfica y la densidad de la población y su diversidad racial de cada lado del mundo, dondequiera que estén disponibles los datos del censo.

En este caso específico, el mapa contiene más de 190 millones de puntos que representan a todos los ciudadanos brasileños. Los habitantes pueden declararse: blancos, negros, morenos, asiáticos e indígenas.





OBSERVA EL MAPA DE BRASIL (ESCALA REGIONAL) Y RESPONDE.



➔ ¿DÓNDE Y CÓMO SE COLOCAN/PROPAGAN LAS PERSONAS NEGRAS Y MULATAS DEL PAÍS?

---

➔ ¿DÓNDE Y CÓMO SE COLOCAN/PROPAGAN LAS PERSONAS ASIÁTICAS Y BLANCAS EN EL PAÍS?

---

➔ ¿DÓNDE Y CÓMO SE UBICAN/PROPAGAN LAS PERSONAS INDÍGENAS EN EL PAÍS?

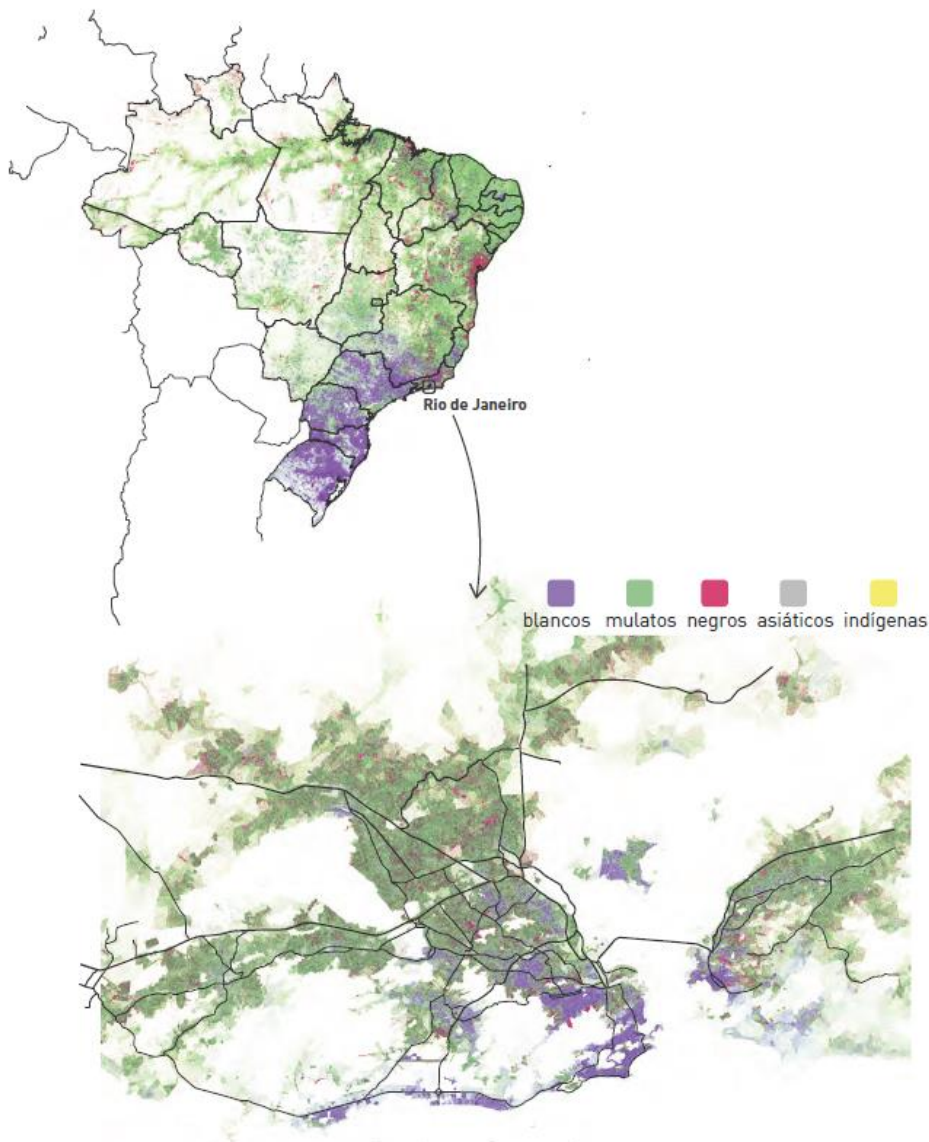
---

➔ CONSIDERANDO LOS TERRITORIOS LOCALES, ¿CREES QUE LAS PERSONAS QUE PERTENECEN A DIFERENTES GRUPOS ÉTNICOS SE ENCUENTRAN SITUADAS ADECUADAMENTE EN EL PAÍS?

---



AHORA OBSERVA EL MAPA A ESCALA LOCAL DE RÍO DE JANEIRO (EL MAPA EN EL LADO INFERIOR DE LA DIAPOSITIVA) Y RESPONDE LAS MISMAS PREGUNTAS DE LA DIAPOSITIVA ANTERIOR.



➔ ¿DÓNDE Y CÓMO SE COLOCAN/PROPAGAN LAS PERSONAS NEGRAS Y MULATAS DEL PAÍS?

---

➔ ¿DÓNDE Y CÓMO SE COLOCAN/PROPAGAN LAS PERSONAS ASIÁTICAS Y BLANCAS EN EL PAÍS?

---

➔ ¿DÓNDE Y CÓMO SE UBICAN/PROPAGAN LAS PERSONAS INDÍGENAS EN EL PAÍS?

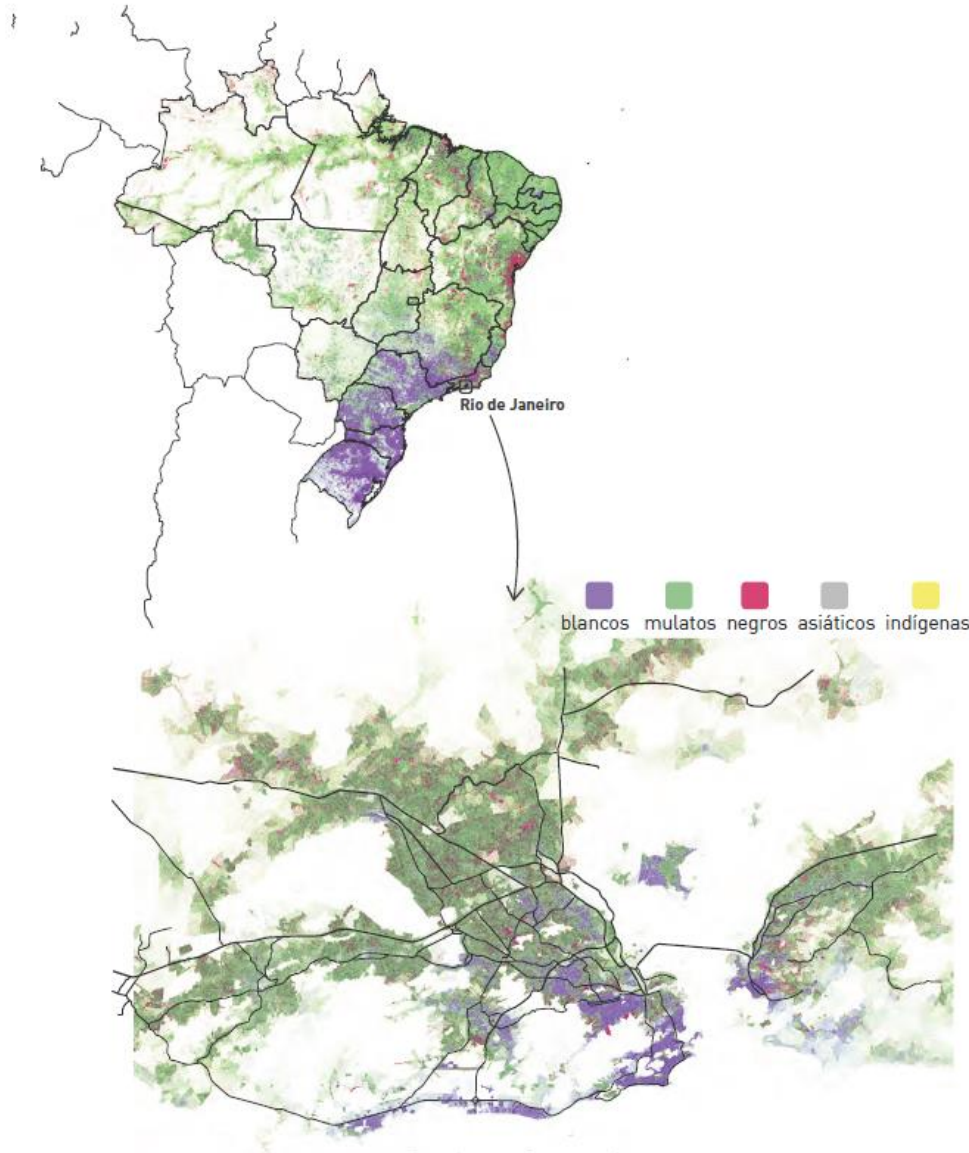
---

➔ CONSIDERANDO LOS TERRITORIOS LOCALES, ¿CREES QUE LAS PERSONAS QUE PERTENECEN A DIFERENTES GRUPOS ÉTNICOS SE ENCUENTRAN SITUADAS ADECUADAMENTE EN EL PAÍS?

---



AHORA OBSERVA LOS DOS MAPAS Y, CONSIDERANDO LO QUE HAS ESCRITO EN LAS DIAPOSITIVAS ANTERIORES, RESPONDE LAS SIGUIENTES PREGUNTAS:



¿ENCUENTRAS ALGUNAS DIFERENCIAS O SIMILITUDES EN LA DISTRIBUCIÓN DE LOS DIFERENTES GRUPOS ÉTNICOS?

---



¿Crees que la idea de la existencia de una posible iniquidad social por etnicidad puede ser probada/apoyada por la distribución de grupos en el país/ciudad? Explica tu respuesta.

---

---

---

LEE LA DECLARACIÓN UNIVERSAL DE LA  
UNESCO SOBRE LA DIVERSIDAD CULTURAL QUE  
PUEDES ENCONTRAR EN ESTE ENLACE

[http://portal.unesco.org/es/ev.php-  
URL\\_ID=13179&URL\\_DO=DO\\_TOPIC&URL\\_SECTION=201.html](http://portal.unesco.org/es/ev.php-URL_ID=13179&URL_DO=DO_TOPIC&URL_SECTION=201.html)

¿CREES QUE EL CONTENIDO ES COHERENTE  
CON LO QUE REALMENTE ESTÁ SUCEDIENDO  
EN EL CONTINENTE SUDAMERICANO Y EN TODO  
EL MUNDO?

